

1- Leia com atenção:



Ao realizar uma jogada comprei uma laranja que custa 1 real e 25 centavos. Paguei com uma nota de 10,00 reais. Quanto receberei de troco?

✓ Escreva a operação e coloque a resposta.



Ao realizar uma jogada comprei uma pêra que custa 6 reais. Paguei com uma 3 notas de 2 reais. Quanto receberei de troco?

✓ Escreva a operação e coloque a resposta

2- Observe a tabela abaixo:





Laranja	1 real e 25 centavos
Morango	5 reais
Pêra	6 reais
Uva	4 reais
Maçã	1 real e 50 centavos
Banana	3 reais e 50 centavos

a) Qual fruta custa mais caro? Justifique sua resposta.

b) Qual fruta custa mais barato? Justifique sua resposta.

c) Quanto você teria que pagar se durante o jogo tivesse que comprar todas as frutas presentes na tabela acima?

JOGO TRILHA DOS SABORES

Arroz	Você ganhou 3 reais		Queijo	Morango	Batatas
Brócolis	Abóbora	Maçãs	Fique onde está		Copo de leite
	Passe a vez	Cenoura	Tomate	Cacho de uva	Retorne 2 passos para a esquerda
Laranja	Pêra			Feijão	
				Ande para frente 2 passos	Banana

← Bruna

↑
Chegada

↑
Chegada

↑
Chegada

↑
Chegada

Ao jogar os dados Bruna se deparou com a seguinte situação:



a) O que vai acontecer após esta jogada? Justifique sua resposta.